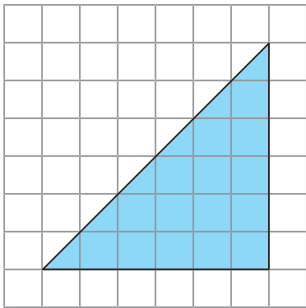


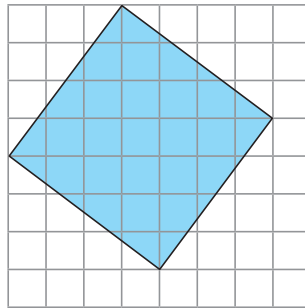
依指示分割圖形。

- ① 在下面各圖中加畫直線，把它們各分割成兩個形狀和大小都相同的圖形。

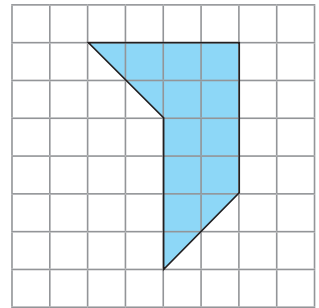
a



b

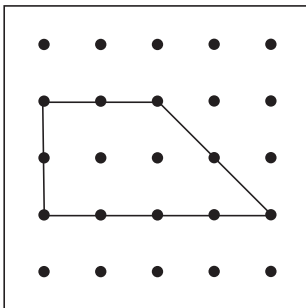


c

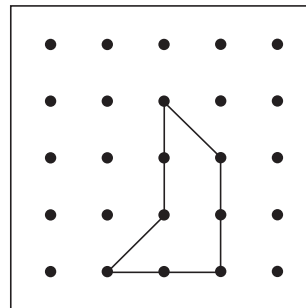


- ② 把下面各圖形分割成指定的圖形，在圖中加畫直線表示分割方法。

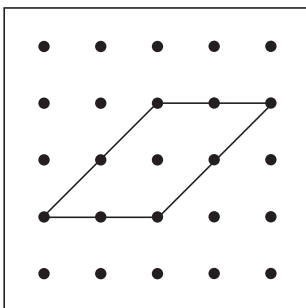
a 三個三角形



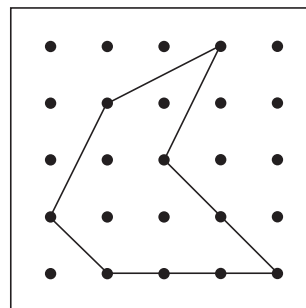
b 兩個三角形



c 三個平行四邊形

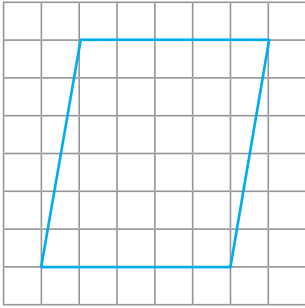


d 一個菱形和一個梯形

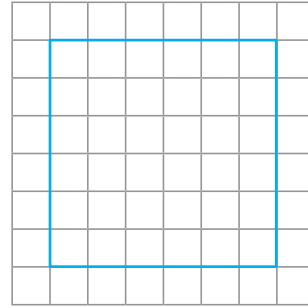


依指示把下列各圖分割成指定的圖形，並在圖中加畫直線表示。

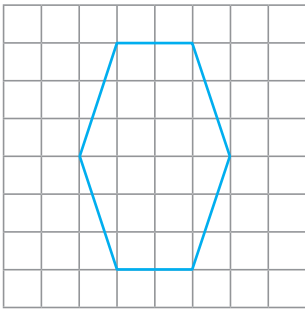
- ③ 兩個梯形



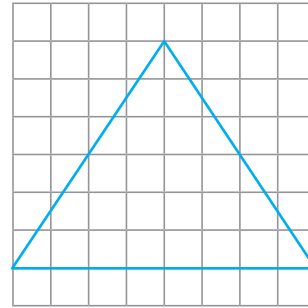
- ④ 四個相同的正方形



- ⑤ 一個長方形和兩個三角形




- ⑥ 四個相同的三角形



把圓圈塗黑和塗滿，以「●」表示正確答案。

- ⑦ 下圖是一個正方形。樂兒把它分割成兩個大小和形狀相同的圖形。以下哪種圖形是她不能分割得到的？



- A. 正方形  
 C. 三角形

- B. 長方形  
 D. 梯形