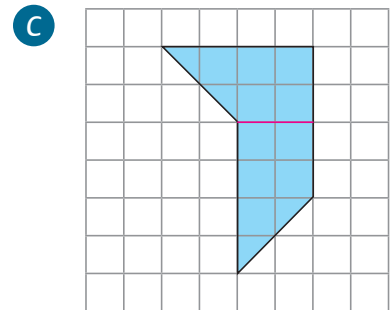
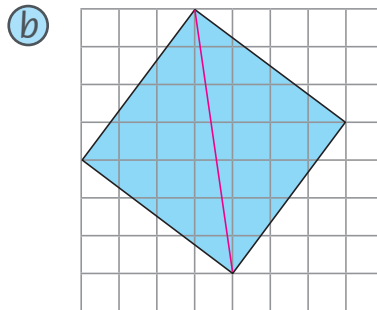
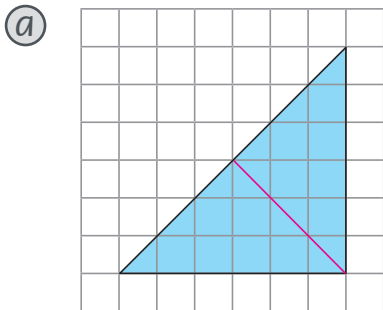


題 1 至 7：把平面圖形依指示進行分割。

依指示分割圖形。

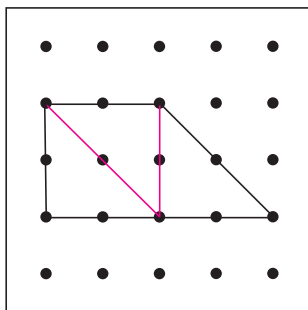
- ① 在下面各圖中加畫直線，把它們各分割成兩個形狀和大小都相同的圖形。



或其他合理答案

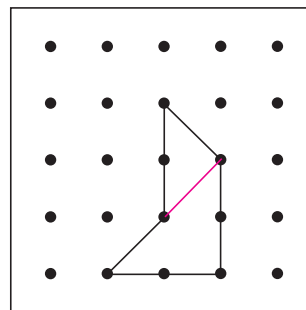
- ② 把下面各圖形分割成指定的圖形，在圖中加畫直線表示分割方法。

- (a) 三個三角形

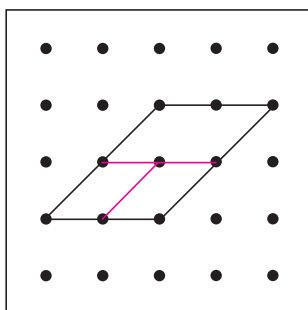


或其他合理答案

- (b) 兩個三角形

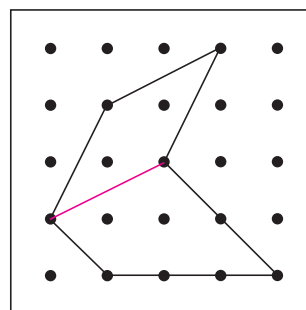


- (c) 三個平行四邊形



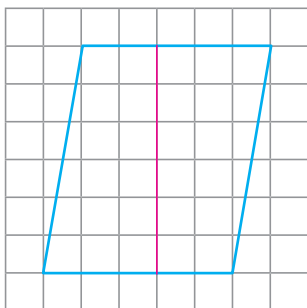
或其他合理答案

- (d) 一個菱形和一個梯形



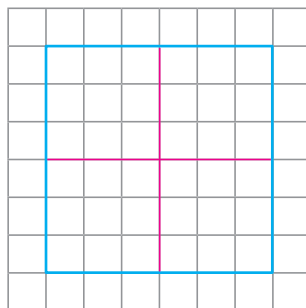
依指示把下列各圖分割成指定的圖形，並在圖中加畫直線表示。

③ 兩個梯形

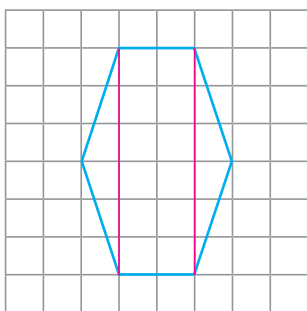


或其他合理答案

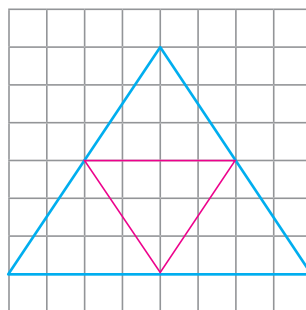
④ 四個相同的正方形



⑤ 一個長方形和兩個三角形




⑥ 四個相同的三角形



把圓圈塗黑和塗滿，以「●」表示正確答案。

HKAT 7 下圖是一個正方形。樂兒把它分割成兩個大小和形狀相同的圖形。以下哪種圖形是她不能分割得到的？



A. 正方形

B. 長方形

C. 三角形

D. 梯形