




要學會

A
C

 計算除減混合題時，應先除後減；如有括號，應先計算括號部分。

例 ① $120 \div 8 - 12$
先除後減

A C = _____ - 12
 = _____

例 ② $120 \div (12 - 8)$
先計算括號部分

A C = $120 \div$ _____
 = _____



做練習

1. 計算下列各題。

A C (a) $144 \div 9 - 7 =$ _____ **A C** (b) $90 \div 15 - 5 =$ _____

A C (c) $220 - 198 \div 11 =$ _____ (d) $300 - 396 \div 22 =$ _____

A C (e) $(333 - 61) \div 17 =$ _____ **A C**

A C (f) $442 \div (294 - 268) =$ _____

A C 2. 下列哪一算式的結果最小？ 



A. $120 - 84 \div 12$

B. $825 \div (19 + 36)$

C. $(500 - 10) \div 35$

D. $429 \div 13 - 20$

A C 3. 媽媽付 100 元買了三枝牙膏，找回 16 元，每枝牙膏售 _____ 元。 



A C 4. 一杯蘋果汁有 224 毫升。一杯蘋果汁和一杯橙汁相差多少毫升？ 

A. 19 毫升 B. 243 毫升

C. 467 毫升 D. 748 毫升

我把 972 毫升橙汁平均分成 4 杯。



A C 5. 獨立裝的紙尿片每包售 134 元，珍寶裝的紙尿片有 5 包，售 610 元。獨立裝紙尿片比珍寶裝每包貴 _____ 元。 



A C 6. 一本故事書有 195 頁，弟弟看了 27 頁後，餘下的計劃兩星期看完。弟弟計劃每天看 _____ 頁。🔍🔍

7. 玉婷有絲帶 3 米，用 30 厘米做了一個蝴蝶結後，餘下的用來做絲帶花。

做一個絲帶花需用絲帶 45 cm。



玉婷

A C (a) 玉婷最多可做絲帶花 _____ 個。🔍🔍

A C (b) 如果每個絲帶花減用絲帶 10 厘米，則餘下的絲帶 ^{*} 足夠 / 不足夠做 8 個絲帶花。(^{*} 圈出答案) 🔍🔍

A C 8. 飲品廠有 742 盒橙汁，比蘋果汁多 155 盒。每個紙箱最多可放 24 盒果汁，如果要把所有蘋果汁放入紙箱，最少需要紙箱 _____ 個。🔍🔍

A C 9. 李先生有 156 枚中國郵票，數量是美國郵票的 12 倍。中國郵票比美國郵票多多少枚？(列式計算)

(Blank area for calculation)

A C 10. 家裏有一瓶汽水，曉東喝了 160 mL 後，餘下的汽水剛好裝滿 4 個大小相同的杯子。每個杯子的容量是多少？(列式計算) 🔍🔍

(Blank area for calculation)



1L



A C 11. ☆ 是一個一位單數，如果 $(360 - \diamond) \div \star = 57$ ，☆ 和 ◇ 的值分別可能是多少？寫出 ☆ 和 ◇ 的三組可能值。🔍🔍

答案一：☆ = _____，◇ = _____

答案二：☆ = _____，◇ = _____

答案三：☆ = _____，◇ = _____