

2

漫遊香港

一 觀察

進進在香港不同地區拍了一些照片，你知道他拍攝哪些地區嗎？把答案的代表字母填在○內，然後把○塗上適當的顏色。

A. 赤柱


B. 大埔


C. 赤鱘角


D. 屯門

E. 灣仔

F. 尖沙咀

 香港島

 九龍

 新界 (包括離島)



二 選擇

香港的山川地貌有甚麼特徵？在()內加✓。

1. 香港有很多

() 平地

() 山地

2. 香港的平地

() 集中

() 分散

3. 香港的河流主要在

() 新界北及西北部

() 九龍北部

4. 香港的海岸線

() 曲折

() 平直

日期：_____

成績：_____

三 填充

把答案填在 _____ 上。

1. 香港缺乏平地，可供發展的土地 _____，人們的生活環境 _____。
2. 為了充分利用土地，香港的樓宇大多向 _____ 發展，部分則 _____ 而建。
3. 政府採取了 _____ 開闢土地、_____ 舊區、發展 _____ 等多項措施來增加土地供應。
4. 興建 _____ 和 _____ 有助解決城市土地分散的問題。
5. 填海工程令香港的土地面積 _____，維多利亞港兩岸的距離 _____。

四 思考

進進和朋友對香港的環境與建設各有不同的想法，你同意嗎？把你的意見圈起來，並把原因填在 _____ 上。

1.



香港地少人多，樓宇必須向高空發展。

我 **同意/不同意** 他的想法，因為 _____

_____。

2.

我 **同意/不同意** 她的想法，因為 _____

_____。



在新界發展新市鎮，會破壞自然環境呢！