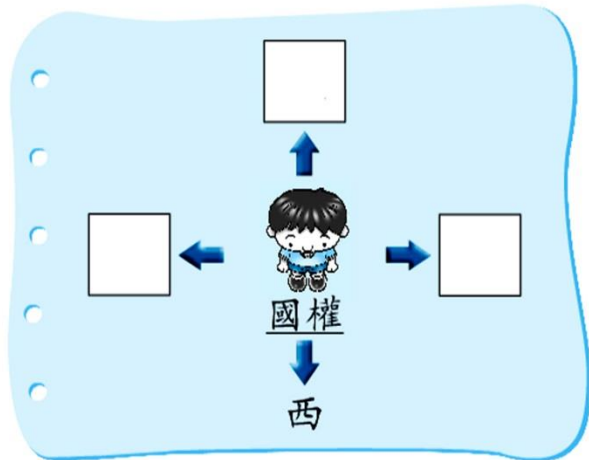
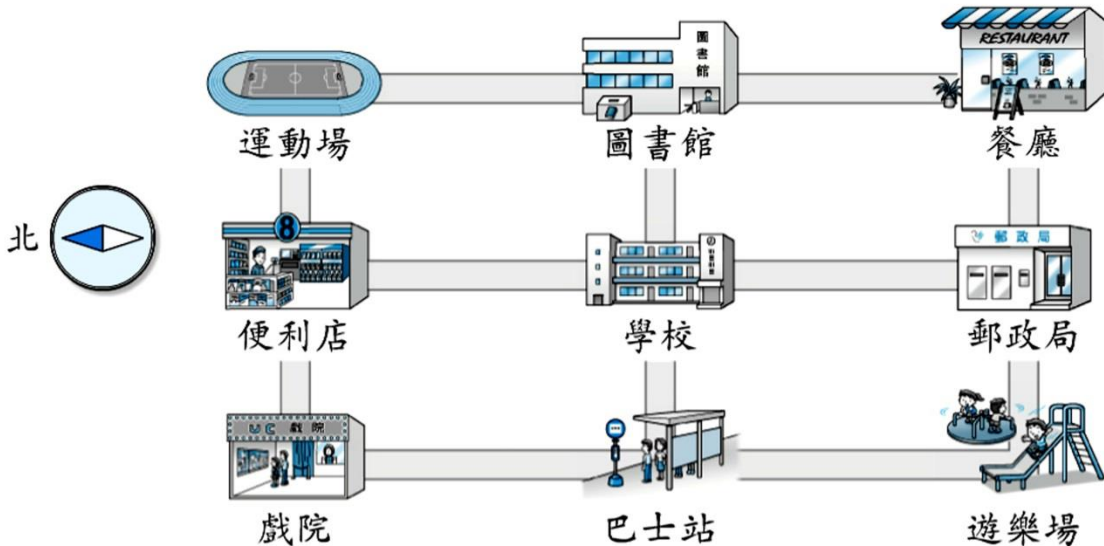


看圖完成下列各題。

- ① ① 國權 面向西方，在空格內填上其餘的方向。
- ② 國權 向右轉一個直角，會面向 _____ 方。

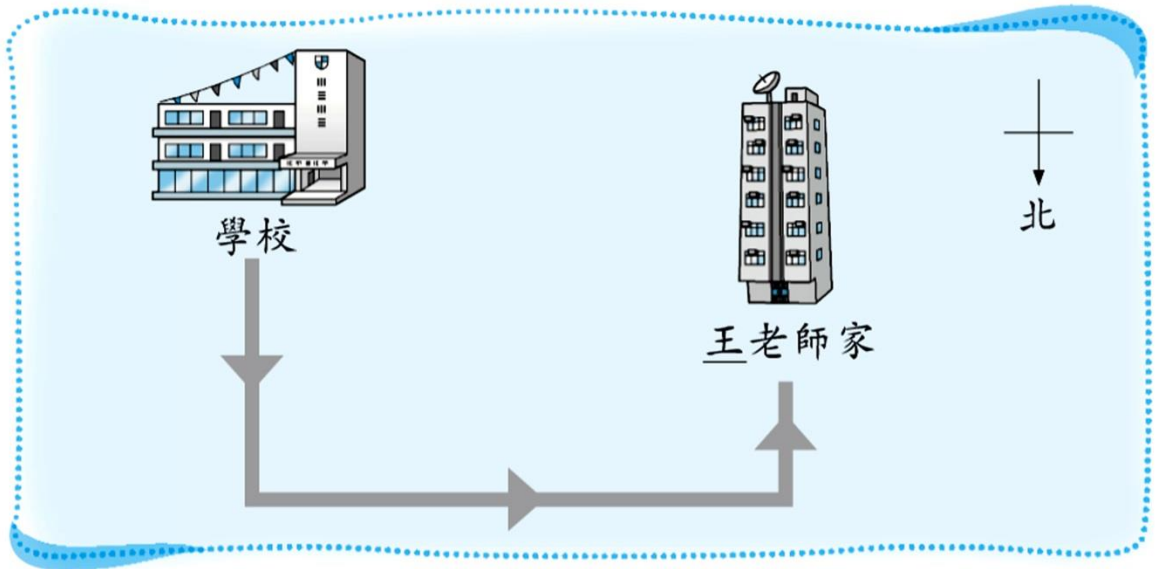


②



- ① 餐廳在運動場的 _____ 方。
- ② 郵政局在 _____ 的東方。
- ③ 便利店在學校的 _____ 方，同時在戲院的 _____ 方。
- ④ 達明 由餐廳到巴士站，他走過的方向是：
西方 ➡ 北方 ➡ 西方
在圖中把達明行走的路線畫出來。

③ 王老師由學校駕車回家。按下圖寫出汽車的行駛方向。



王老師先向 _____ 方行駛，然後轉往 _____ 方，最後轉向 _____ 方走便可到達。

把圓圈塗黑和塗滿，以「●」表示正確答案。

4

W 在 Z 的西方，Y 在 X 的東方，
以下哪一個是正確的圖？

