

要學會

四個主要方向是東、南、西和北。

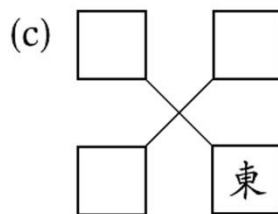
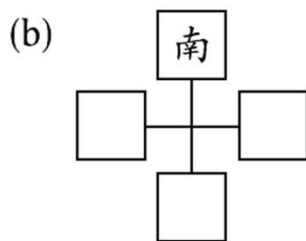
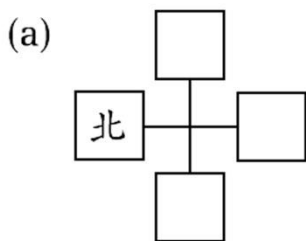
指南針的紅色指針指向北方。

例 與西方相反的方向是 \* 東 / 南 / 北 方。（\* 圈出答案）



做練習

1. 在以下空格內填寫其餘的方向。



2. 子晴面向東方，她的左面是 \* 南 / 西 / 北 方。（\* 圈出答案）

3. (a) 小傑背向 \_\_\_\_\_ 方。

(b) 文思在家樂的 \_\_\_\_\_ 方。

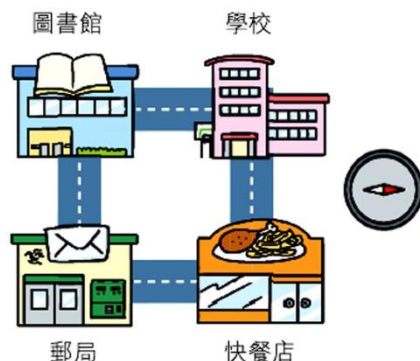
(c) \_\_\_\_\_ 在文思的西方。

(d) 家樂在 \_\_\_\_\_ 的東方。



4. (a) 郵局在圖書館的 \_\_\_\_\_ 方。

(b) 從郵局出發，向 \_\_\_\_\_ 方走，經過快餐店，再往 \_\_\_\_\_ 方走，便可到達學校。





5. 下圖是藏寶地圖。



- (a) 炮台在山洞的 \_\_\_\_\_ 方，山洞的北方是  
 \* 森林 / 村莊 / 寶藏。( \* 圈出答案)
- (b) 森林在河流的 \_\_\_\_\_ 方。
- (c) 偉東在農田中，若他要找到寶藏，可先向 \_\_\_\_\_ 方  
 走，經過 \_\_\_\_\_，然後向 \_\_\_\_\_ 方走便可找到。

6. 右圖是部分學生的座位表。  
國文在敏兒的北方。

- (a) 家明在小志的 \_\_\_\_\_ 方。
- (b) 小志的南方是誰？

- A. 美恩      ○ B. 敏兒  
 ○ C. 家明      ○ D. 國文

<u>美恩</u>	<u>敏兒</u>	
	<u>小志</u>	<u>家明</u>
	<u>國文</u>	



(c) 小天在美恩的北方，又在國文的東方。在座位表中寫上「小天」以表示他的位置。



7. 國華現在面向南方，他向右轉三個直角後，會面向哪一方？

- A. 東方      ○ B. 南方      ○ C. 西方      ○ D. 北方



#### 簡化問題

把題目考慮成兩個較簡單的問題：

1. 美恩的北方有哪些座位？
2. 國文的東方有哪些座位？