



練習 7

填寫各紙幣的幣值。



500 元

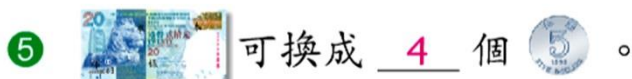
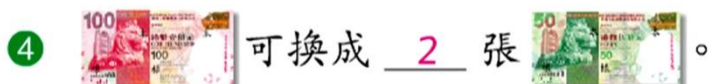


20 元




100 元

填填看。



寫出下列各題中貨幣的總值。



共有 790 元



共有 1042 元 7 角