

## 要學會

四個主要方向是東、南、西和北。

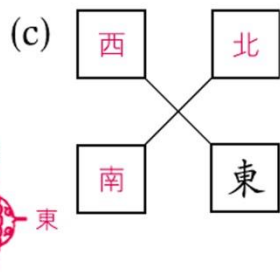
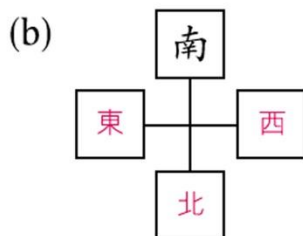
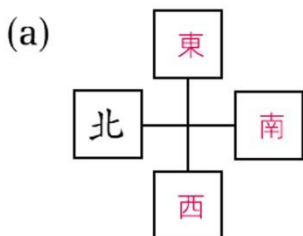
指南針的紅色指針指向北方。

例 與西方相反的方向是 \* (東) / 南 / 北 方。( \* 圈出答案)



## 做練習

1. 在以下空格內填寫其餘的方向。



2. 子晴面向東方，她的左面是 \* 南 / 西 / (北) 方。( \* 圈出答案)

3. (a) 小傑背向 東 方。

(b) 文思在家樂的 北 方。

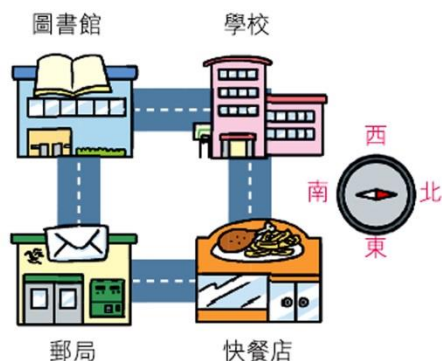
(c) 小傑 在文思的西方。

(d) 家樂在 志明 的東方。



4. (a) 郵局在圖書館的 東 方。

(b) 從郵局出發，向 北 方走，經過快餐店，再往 西 方走，便可到達學校。





5. 下圖是藏寶地圖。



- (a) 炮台在山洞的 南 方，山洞的北方是  
 \* 森林 / 村莊 / 寶藏。( \* 圈出答案)
- (b) 森林在河流的 東 方。
- (c) 偉東 在農田中，若他要找到寶藏，可先向 東 方  
 走，經過 山谷，然後向 北 方走便可找到。  
 (或：北；廟宇；東)

6. 右圖是部分學生的座位表。  
 國文在敏兒的北方。

- (a) 家明 在 小志 的 西 方。
- (b) 小志 的南方是誰？
- A. 美恩      ● B. 敏兒  
 ○ C. 家明      ○ D. 國文

先畫上方向版。

		東 西 北 南
美恩	敏兒	
	小志	家明
小天	國文	



(c) 小天 在 美恩 的北方，又在  
國文 的東方。在座位表中寫  
 上「小天」以表示他的位置。



簡化問題

把題目考慮成兩個較簡單的問題：

1. 美恩 的北方有哪些座位？
2. 國文 的東方有哪些座位？



7. 國華 現在面向南方，他向右轉  
 三個直角後，會面向哪一方？

- A. 東方      ○ B. 南方      ○ C. 西方      ○ D. 北方