

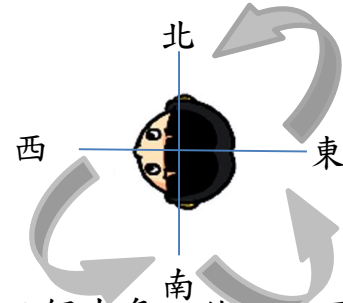
二年級數學科網上綜評(單元三：方向)

答案

依此句找出方向座標

1. 小奇黃昏面向太陽站立，然後依逆時針方向轉了三個直角，他現在面向哪一方？

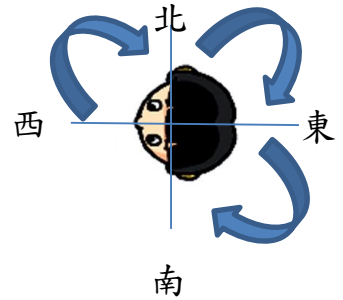
- A. 東
- B. 南
- C. 西
- D. 北



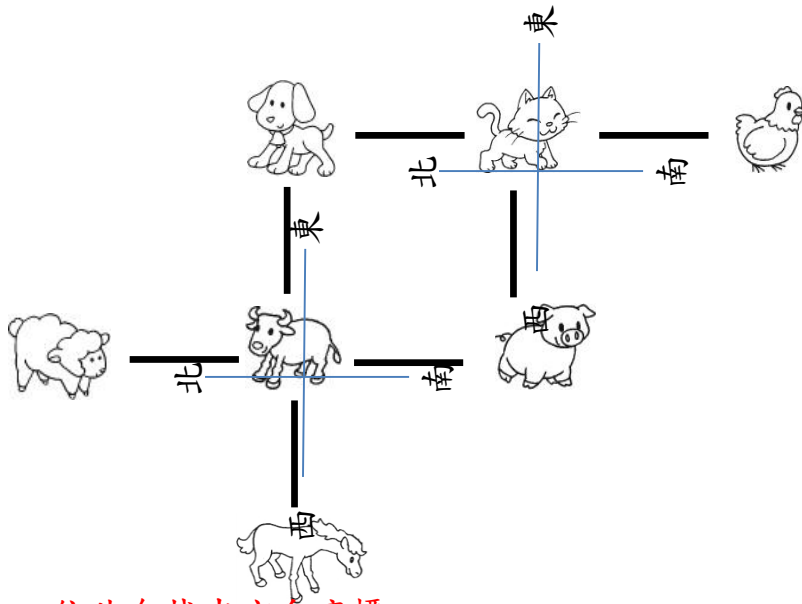
依此句找出方向座標

2. 家寶早上背向太陽站立，然後依順時針方向轉了三個直角，他現在面向哪一方？

- A. 東
- B. 南
- C. 西
- D. 北



3.

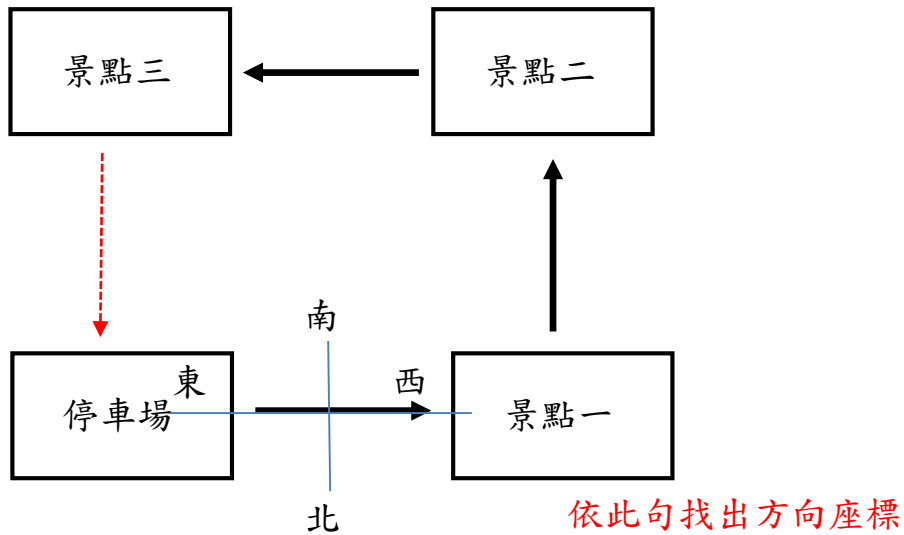


依此句找出方向座標

觀察上圖，如果  是在  的南方，那麼  的東方是甚麼？

- A. 
- B. 
- C. 
- D. 

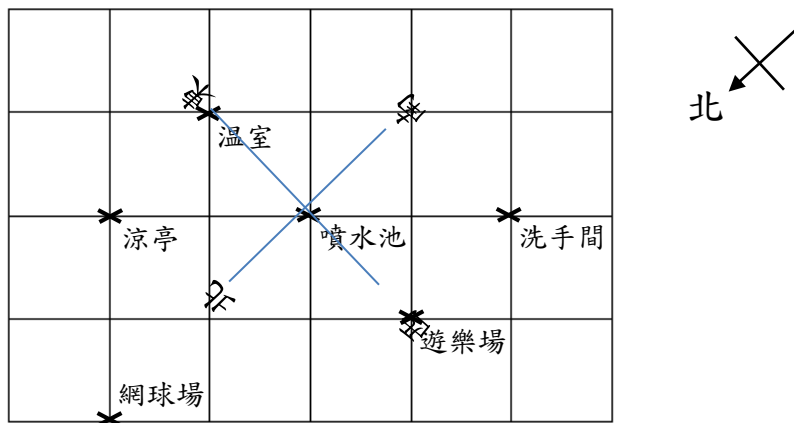
4.



旅行團從停車場出發，向西方行了 500 米到達景點一，參觀過後，便行了 500 米到達景點二，最後再行了 500 米到達景點三。旅行團完成參觀活動後，想以最短的路線返回停車場，他們該往哪一個方向走？

- A. 東
- B. 南
- C. 西
- D. 北

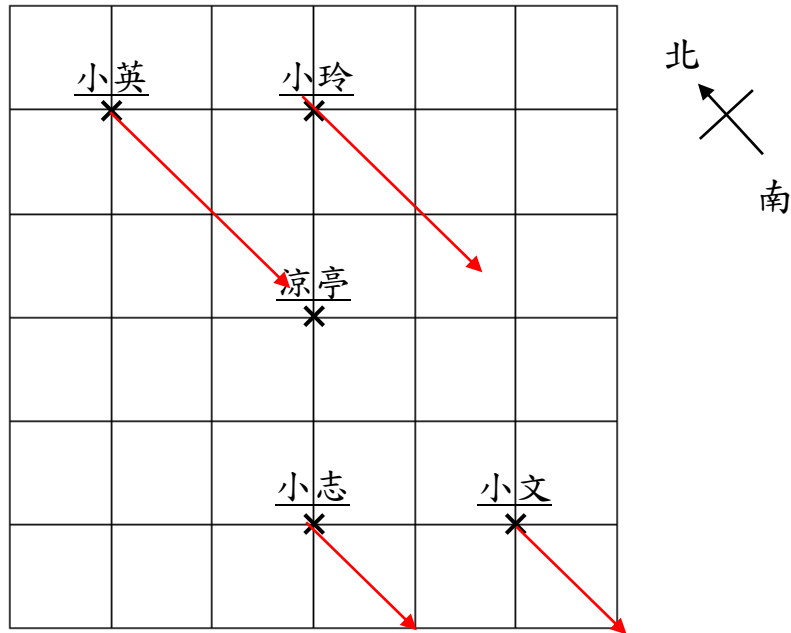
5.



以上是公園的平面圖，在噴水池的東方是甚麼？

- A. 溫室
- B. 涼亭
- C. 洗手間
- D. 遊樂場

6.



小英、小玲、小志和小文一起向南方走，誰會到達涼亭？

A. 小英

B. 小玲

C. 小志

D. 小文