

### 要學會

香港流通的紙幣包括：



右面的貨幣總值 \_\_\_\_\_ 元。



### 做練習

1. 以下哪組貨幣的總值是 100 元？

- A.
- B.
- C.
- D.

2. 的幣值和 的 <sup>\*</sup> 相等 / 不相等。( <sup>\*</sup> 圈出答案)

3. 右面是黃先生享用午餐後所付的款項，午餐的售價是多少？

答案：售價是 \_\_\_\_\_ 元  
\_\_\_\_\_ 角。















4. 右面是小慧的錢箱內有的款項。她的錢箱內有 \_\_\_\_\_ 元 \_\_\_\_\_ 角。



5. 右面是梁太太錢包內的所有貨幣，她共有  $\star$  2 / 3 / 5 張十元紙幣。(  $\star$  圈出答案)




6. (a)  可換得 \_\_\_\_\_ 個  。
- (b) 2 張  可換得 \_\_\_\_\_ 個  。
- (c) 1 張  可換得 \_\_\_\_\_ 張  。
- (d) 1 張  可換得 1 張  和 \_\_\_\_\_ 張  。


7. 6 張  共可換得 3 張甚麼紙幣？

- A.     ○ B.     ○ C.     ○ D. 



8. 張婆婆為了預備新年的利是，到銀行把 800 元換成

和  。

張婆婆換了 10 張  和 \_\_\_\_\_ 張

