

要學會

香港流通的紙幣包括：



右面的貨幣總值 670 元。



做練習

1. 以下哪組貨幣的總值是 100 元？

- A. 80 元
- B. 60 元
- C. 90 元
- D. 90 元

2. 的幣值和 的 相等 / 不相等。(* 圈出答案)

10 元

3. 右面是黃先生享用午餐後所付的款項，午餐的售價是多少？

答案：售價是 47 元 6 角。







4. 右面是小慧的錢箱內有的款項。她的錢箱內有 197 元 5 角。





5. 右面是梁太太錢包內的所有貨幣，她共有 \star 2 / 3 / 5 張十元紙幣。 \star 圈出答案)






留意問的是十元紙幣，因此十元硬幣不包括在內。

6. (a)  可換得 5 個  。

- (b) 2 張  可換得 4 個  。


1 張 20 元紙幣可換得 2 個 10 元硬幣，因此 2 張 20 元紙幣可換得 4 個 10 元硬幣。

- (c) 1 張  可換得 10 張  。

- (d) 1 張  可換得 1 張  和 25 張



換了 1 張 500 元紙幣後，還餘 500 元。500 元可換得 5 張 100 元紙幣，1 張 100 元紙幣可換得 5 張 20 元紙幣。5 × 5 = 25，共可以換得 20 元紙幣 25 張。



7. 6 張  共可換得 3 張甚麼紙幣？

- A.  ○ B.  ○ C.  ● D. 



8. 張婆婆為了預備新年的利是，到銀行把 800 元換成



- 和  。
- 張婆婆換了 10 張  和 12 張



10 張 20 元紙幣值 200 元。100 元可換 2 張 50 元紙幣，餘下的 600 元可換 12 張 50 元紙幣。