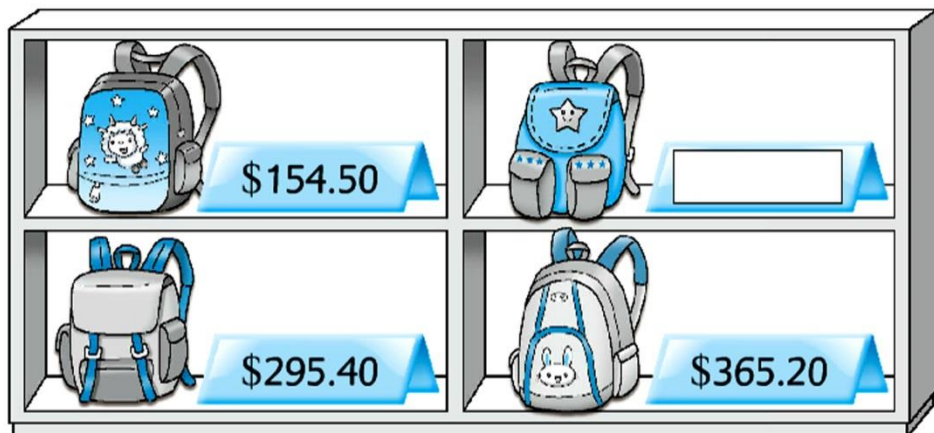





買書包



- ①  的售價是 _____ 元 _____ 角。
- ②  的售價是 420 元 3 角，在上圖中的標價牌上填寫售價。

從貼紙頁 1 取出貨幣貼紙，完成下列各題。

- ③ 買  一個，需付多少？

- ④ 付  買  一個，應找回多少？

算算看。

⑤

		元	角
	4	7	6
-	3	5	2

⑥

		元	角
		8	0
+		5	9

列式計算下列各題。



⑦ 買  和 ，共需付多少？

		元	角

⑧ 姐姐有 2 張  和 3 個 ，她想買一把 ，還欠多少？