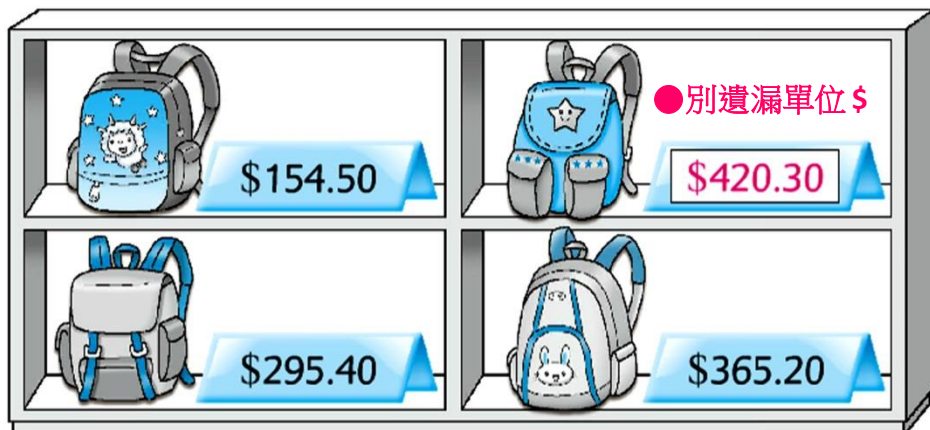





買書包



- ①  的售價是 154 元 5 角。 ●不可寫成 154元 50角
- ②  的售價是 420 元 3 角，在上圖中的標價牌上填寫售價。

從貼紙頁 1 取出貨幣貼紙，完成下列各題。

- ③ 買  一個，需付多少？

或其他合理答案

- ④ 付  買  一個，應找回多少？

或其他總值是 134 元 8 角的答案

算算看。

5

	元	角
	4	7
-	3	5
	1	2

6

	元	角
	8	0
+	5	9
	1	3

●計算加法時，
記得要進位。

列式計算下列各題。



7 買  和 ，共需付多少？




●計算加法時，
記得要進位。

共需付：
 $36 \text{ 元 } 3 \text{ 角} + 47 \text{ 元 } 8 \text{ 角}$
 $= 84 \text{ 元 } 1 \text{ 角}$

或 $36 \text{ 元 } 3 \text{ 角} + 47 \text{ 元 } 8 \text{ 角}$
 $= 84 \text{ 元 } 1 \text{ 角}$
 共需付 84 元 1 角。

●計算兩件物品「共需」付多少，
我們可用加法計算。

	元	角
	3	6
+	4	7
	8	4

8 姐姐有 2 張  和 3 個 ，她想買一把 ，還欠多少？

還欠：
 $72 \text{ 元 } 5 \text{ 角} - 41 \text{ 元 } 5 \text{ 角}$
 $= 31 \text{ 元}$

或 $72 \text{ 元 } 5 \text{ 角} - 41 \text{ 元 } 5 \text{ 角}$
 $= 31 \text{ 元}$
 還欠 31 元。

●計算「還欠」多少，
我們可用減法計算。

	元	角
	7	2
-	4	1
	3	1