

二年級數學科網上綜評(單元四：貨幣)

答案

留意關鍵詞


1. 哪種貨幣同時有硬幣和紙幣在香港流通？

- A. 10 元 B. 20 元
 C. 50 元 D. 100 元

2. 在香港現時流通的貨幣中，幣值比 100 元小的紙幣共有多少種？
50 元紙幣、20 元紙幣和 10 元紙幣

- A. 2 種 B. 3 種
 C. 9 種 D. 10 種

3. 媽媽用以下貨幣購買一雙鞋子。鞋子的售價是幾元幾角？



- A. 586 元 7 角 B. 595 元 7 角
 C. 596 元 2 角 D. 600 元 2 角

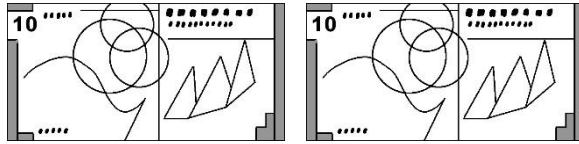

20 元換 10 個 2 元，10 元換 5 個 2 元

4.  可換得  多少個？

- A. 5 個 B. 10 個
 C. 15 個 D. 20 個

100 元換 5 張 20 元，20 元換 1 張 20 元

5.



可換得

多少張？

A. 4 張

B. 5 張

C. 6 張

D. 12 張

2 張 500 元換 1 張 1000 元，4 張 500 元換 2 張 1000 元

6. 4 張



可換得



多少張？



A. 1 張

B. 2 張

C. 4 張

D. 8 張

1 個 1 元換 2 個 5 角，10 個 1 元就換 20 個 5 角

7. 10 個  可換得  多少個？



A. 10 個

B. 20 個

C. 40 個

D. 50 個

1 張 20 元換 4 個 5 元，5 張 20 元就換 20 個 5 元

8. 5 張  可換得  多少個？




A. 10 個



B. 15 個

C. 20 個







D. 25 個

1 張 100 元換 5 張 20 元，6 個 10 元(60 元)就換 3 張個 20 元

9. 1 張  和 6 個  可換得  多
少張？
- A. 5 張 B. 8 張
 C. 10 張 D. 13 張

10. 紹明用以下的款項可換得 10 張  和  多少個？

硬幣總值 12 元。12 元可以換 6 個 2 元

-      
- A. 36 個 B. 16 個
 C. 15 個 D. 6 個

留意題目要求！
其實只要計算這些硬幣
可以換到多少個 2 元