
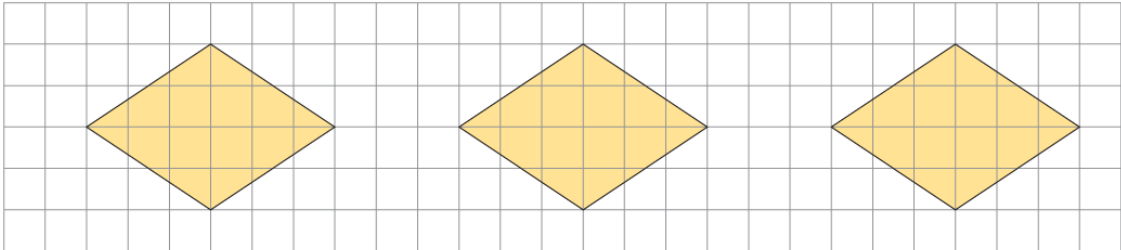




練習 6

依指示分割圖形。

-  ① 用三種不同方法把菱形分割成兩個形狀和大小都相同的圖形，在圖中加畫直線表示分割方法，然後寫出分成圖形的名稱。




兩個相同的

兩個相同的

兩個相同的

- ② 依指示把下面的圖形分割，在圖中加畫直線表示分割方法，然後寫出分成圖形的名稱。


 ①
答案



分割成：

七個相同的 _____ 形

 ②
答案




分割成：

兩個相同的 _____ 形

和兩個相同的 _____ 形

③



自由分割，分割成：

你會分成哪幾
種圖形？各有
多少個？