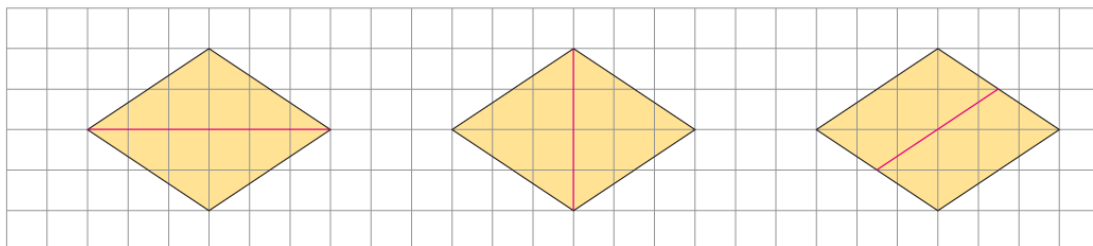


練習 6

依指示分割圖形。



- ① 用三種不同方法把菱形分割成兩個形狀和大小都相同的圖形，在圖中加畫直線表示分割方法，然後寫出分成圖形的名稱。



兩個相同的
三角形

兩個相同的
三角形

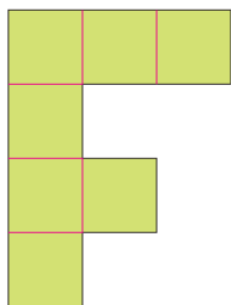
兩個相同的
平行四邊形

或其他合理答案

- ② 依指示把下面的圖形分割，在圖中加畫直線表示分割方法，然後寫出分成圖形的名稱。



a

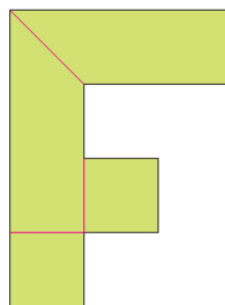


分割成：

七個相同的 正方 形



b




分割成：

兩個相同的 正方 形
和兩個相同的 梯 形

或其他合理答案

c



自由分割，分割成：

你會分成哪幾種圖形？各有多少個？